


Bonjour, je te propose de découvrir l'extérieur du Palais des papes. Pour en savoir un peu plus sur ce bâtiment du moyen âge, amuse-toi à répondre aux questions de ce livret. Bonne promenade !

1/ La façade

* Te voici devant l'entrée des Archives départementales. Celles-ci sont installées dans la partie la plus ancienne du Palais des papes.



* Regarde bien la façade du Palais, de bas en haut. D'après toi, à quel type de château le Palais ressemble-t-il ?

A celui-là ?

Ou à celui-là ?



On peut dire qu'il ressemble à un _____

* A quoi servent ces trous au sommet de la tour ?



- à voir le ciel ?
- à lancer des projectiles et donc à se défendre ?
- à laisser passer l'eau de pluie ?

Ce sont des I A C S U L M H C I O :

7/ Installe-toi devant la plaque expliquant l'histoire de la place.

Quel est le nom de cette tour ? _____

Combien mesure-t-elle ? _____

En quoi est-elle construite ? _____

S'il y avait une invasion, est-ce qu'il serait facile d'assaillir la tour ?



* Sur cette image, essaie de dessiner un peu des pierres. Comme un maçon, pars du bas de la tour et finis une rangée avant d'en commencer une autre.

8/ Dans cette rue :




à quoi sert l'arc en pierre :

- à décorer ?
- à soutenir le mur ?

6/ Place de la Mirande

* Rends-toi place de la Mirande.

* Il y a 5 différences entre cette photo et les vraies fenêtres. Sois bon observateur !



* Les fenêtres sont particulières : elles sont décorées ; on les appelle des _ _ _ _ _ . Si tu pouvais regarder à travers, que verrais-tu ?

* Attention, ne t'attarde pas trop longtemps, tu pourrais recevoir de l'eau sur la tête ! Qui pourrait te faire ça ?

Lui ?



Ou lui ?

Quels sont le nom et la fonction de cet élément architectural ?



2/ La table d'orientation

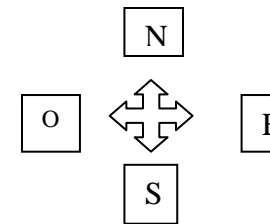
Monte jusqu'au rocher des Doms et place-toi à la table d'orientation.

* Observe le paysage et essaie d'en repérer les différents éléments.

* Puis, prends le dessin joint, tourne-toi pour voir ce que représente le dessin et colorie :

- en vert les zones de végétation
- en bleu les cours d'eau
- en marron les bâtiments visibles.

* En t'aidant de l'étoile indiquant le sud, le nord, l'est et l'ouest, peux-tu indiquer de quel côté du Rhône la ville d'Avignon a été construite ? Répond en entourant les points cardinaux correspondant.



* En revenant un peu vers le sud de l'esplanade, regarde la ville qui s'étend au pied du rocher des Doms. Où est la ville par rapport à toi :

Au pied du rocher des Doms, vois-tu : la vieille ville ? la périphérie ?

3/ Maintenant, tourne-toi vers la droite pour voir ceci :



* Imagine que tu puisses monter en haut des tours. Que verrais-tu de là-haut ?

Pourquoi les papes ont fait construire un palais en hauteur :

- pour qu'il soit visible de loin et impressionne les gens ?
- seulement par goût ?
- pour pouvoir voir très loin dans le paysage et être mieux défendus ?

4/ La tour Trouillas

* Dirige-toi vers les escaliers Saint Anne qui te mèneront au pied du rocher. Puis, va en direction des Vergers d'Urbain V. A côté du cinéma Utopia, tu dois voir :



La tour de gauche paraît :

- plus neuve ?
- plus ancienne ?

En fait, elle a été restaurée (réparée et nettoyée).

Regarde le sommet de la tour de droite (la tour Trouillas) : des tiges en fer dépassent du mur. Elles servaient à tenir les pierres du couronnement (comme une couronne sur la tête).

* En prenant modèle sur la tour de gauche, peux-tu dessiner le couronnement de la tour Trouillas sur la page suivante ?



5/ Les Vergers d'Urbain V

* Prends le passage couvert pour te retrouver dans les Vergers d'Urbain V. D'après le nom de cet espace, que pouvait-il y avoir ici du temps des papes ?
* Pour trouver la réponse, remplace les numéros par les lettres de l'alphabet qui leur correspondent :

Des _ _ _ _ _
10 1 18 4 9 14 19

* Sur ce plan, tu peux t'amuser à dessiner les éléments qui les composaient.



La façade principale du Palais des papes depuis la place du Palais.



9/ Façade principale du Palais.

Tu es maintenant devant la façade principale du Palais. Qu'est-ce qui nous permet de savoir que c'est la façade principale :

- elle est plus ou moins décorée que le reste du Palais ?
- elle a une grande entrée ou une petite porte cachée ?

Réponds en entourant le mot juste.

* La façade a perdu des éléments d'apparat. Peux-tu les redessiner ?



Un palais du moyen âge :
le Palais des papes.

Promenade à l'extérieur du Palais.

Activités proposées par
le service de médiation des
Archives départementales de Vaucluse
en lien avec des séances aux Archives.